

ФАМИЛИЯ _____

ИМЯ _____

ШКОЛА _____

КЛАСС _____

Марафон знаний 2022



Математика 2 класс

Задание 1. Разминка

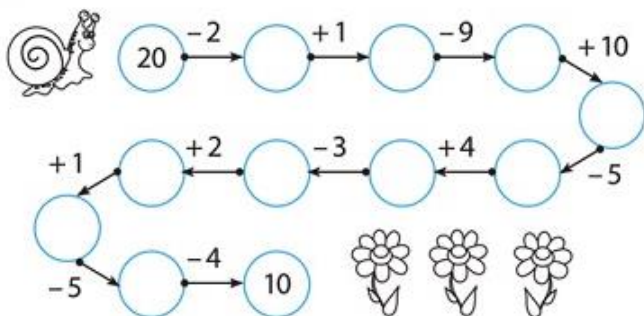
1) Сколько ушей у трёх мышей? **Ответ:** _____

2) С ёлки белка кинула в мишку шишкой и попала ему по лбу. Сколько шишек стало? **Ответ:** _____

3) У Веры 9 конфет, а у Тани на 4 конфеты меньше. Сколько конфет Вера должна дать Тане, чтобы у обеих девочек конфет стало поровну? **Ответ:** _____

4) На какое дерево садится ворона во время проливного дождя? **Ответ:** _____

Задание 2. Выполни действия по цепочке (впиши числа в кружки).



Задание 3. Поставь знаки « + » или « - » так, чтобы получилось верное равенство:

$$8 \quad 5 \quad 4 \quad 3 \quad = \quad 10$$

$$10 \quad 2 \quad 7 \quad 4 \quad = \quad 1$$

Задание 4. Сколько раз при счёте до 20 встречается цифра 1? **Ответ:** _____

Задание 5. В коробочке уместаются 20 красных бусинок или 12 зелёных бусинок. Какие бусинки меньше по размеру: красные или зелёные? **Ответ:** _____

Задание 6. Помоги ёжику подсчитать его зимние запасы.

Ёжик трудился всю неделю. Каждый день он приносил по одному грибу и по три яблока. Грибы он сушил, одно яблоко съедал, другие два яблока складывал в кладовку. Сколько грибов и сколько яблок было в кладовой ёжика в воскресенье вечером? **Ответ:** _____ грибов, _____ яблок



Задание 7. Злобный вирус прячет одинаковые цифры за одинаковыми пуговицами. Не дай ему всё испортить! Запиши примеры правильно!

$$\text{пуговица} + 3 = 5$$

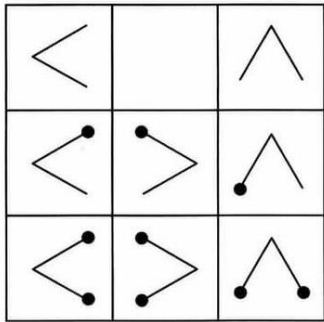
$$3 - \text{пуговица} = \text{пуговица}$$



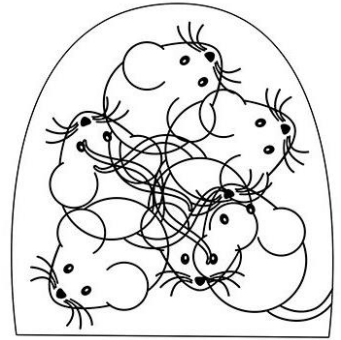
Ответ:

$$\begin{array}{l} + 3 = 5 \\ 3 - \quad = \end{array}$$

Задание 8. Рассмотри картинку и заполни пустую клеточку.

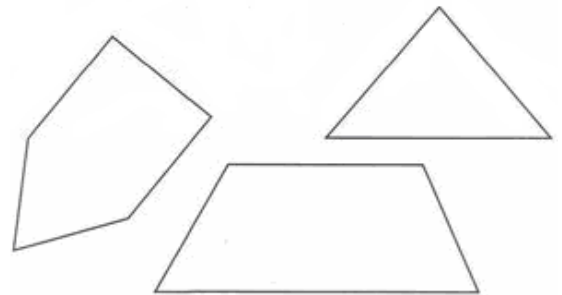


Задание 9. Сколько мышек спряталось в норке?

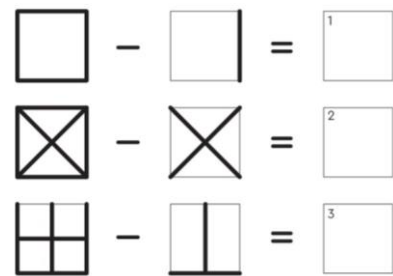
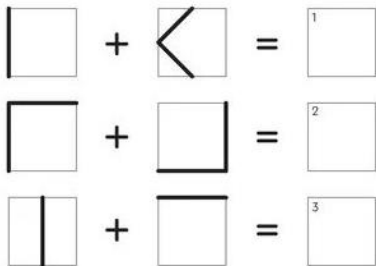


Ответ: _____

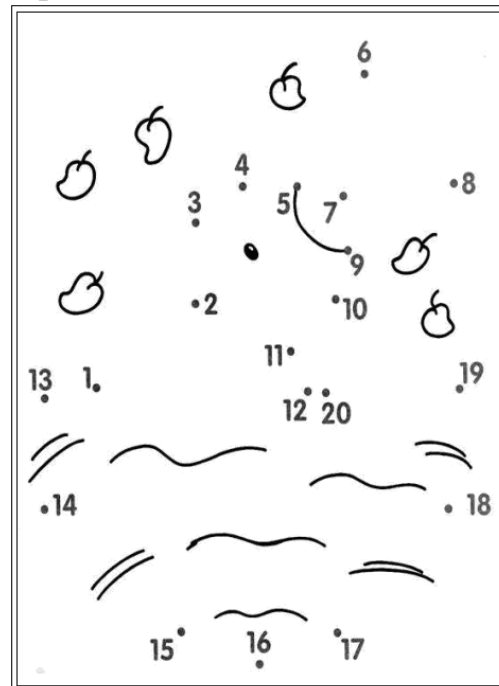

Задание 10. В лесу три заячьи семьи. У них огороды разной формы. Проведи в каждом огороде два отрезка так, чтобы получилось два треугольника и один четырёхугольник.



Задание 11. Реши графические примеры на сложение и вычитание.



Задание 12. Дорисуй по точкам и раскрась картинки.

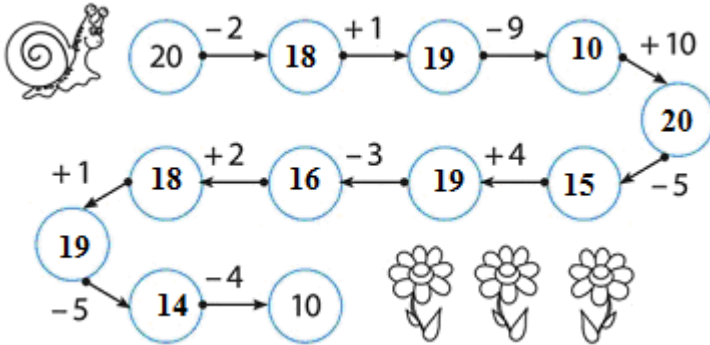


Математика 2 класс. Ответы

Задание № 1 (всего 5 баллов)

- 1) 6 (1 балл)
- 2) 2 (1 балл)
- 3) 2 (2 балла) !!! За ответ 7 – 1 б.
- 4) на мокрое (1 балл)

Задание № 2 (10 баллов за верный ответ: по 1 баллу за каждое число)



Задание 3. (6 баллов - по 3 балла за пример)

$$8 - 5 + 4 + 3 = 10$$

$$10 + 2 - 7 - 4 = 1$$

Задание № 4 (3 балла)

Ответ: 12

Задание № 5 (2 балла за верный ответ)

Ответ: красные

Задание № 6 (5 баллов за верный ответ: 2 балла за грибы + 3 балла за яблоки)

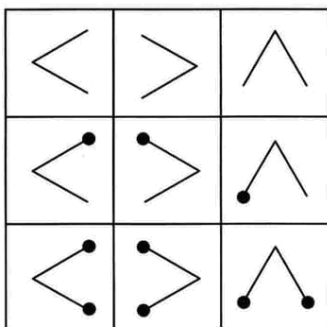
Ответ: 7 грибов, 14 яблок

Задание № 7 (3 балла: по 1 баллу за каждую цифру)

$$2 + 3 = 5$$

$$3 - 2 = 1$$

Задание № 8 (3 балла)

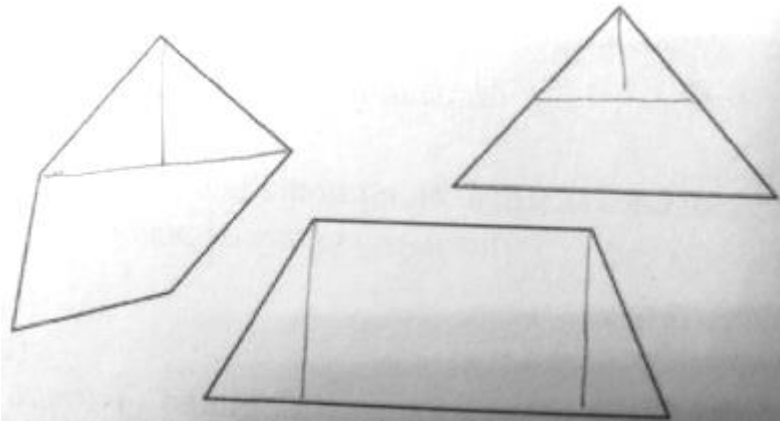


Задание № 9 (2 балла за верный ответ)

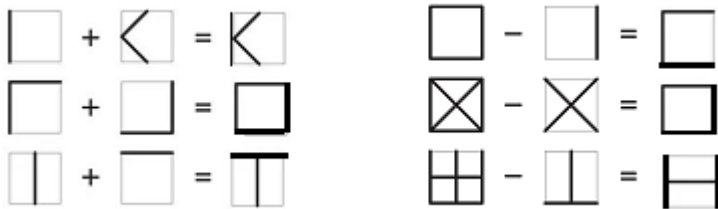
Ответ: 6

Задание № 10 (9 баллов за верный ответ = 3+3+3)

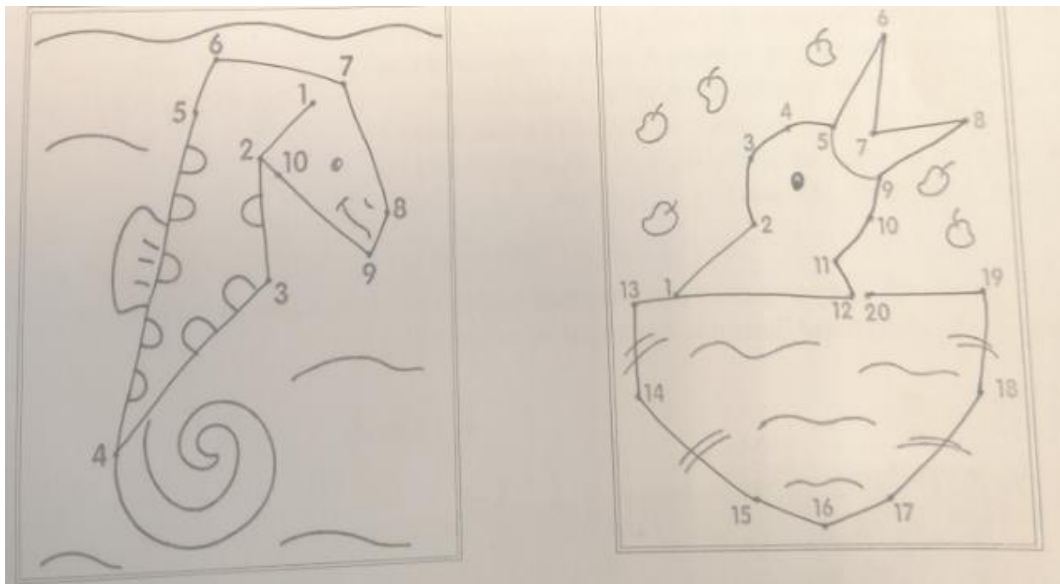
!!! Возможны другие варианты. Важно: 2 треугольника + четырёхугольник



Задание № 11 (12 баллов: по 2 балла за каждый элемент)



Задание № 12 (10 баллов: по 5 баллов за каждый рисунок)



5 баллов – рисунок выполнен правильно и аккуратно

4 балла – один-два недочёта

3 балла – недочётов более двух

1-2 балла – сделаны попытки, но рисунок не дорисован ИЛИ дорисован некорректно

Максимальный балл - 70