

Марафон знаний 2019

Математика 2 класс




Задание 1. Разминка

1. Страус весит 18 кг. Сколько он будет весить, если встанет на одну ногу? _____
2. У прямоугольника отрезали один угол. Сколько углов осталось? _____
3. На столе лежат пять груш и три морковки. Сколько всего овощей лежат на столе?

4. Пошли 3 мальчика в лес за грибами. А навстречу им три девочки. Сколько всего детей идёт в лес? _____

Задание 2. Какой рисунок отличается от других? Закрась на этом рисунке большой кружок в центре (ручкой или карандашом любого цвета).



Задание 3. Какое число больше 6 и меньше 20 на 7 единиц?

Ответ: _____



Задание 4. Знайка, Кнопочка и Тюбик живут в домах № 14, 17, 19.

В каком доме живёт каждый из них, если Знайка не живёт в домах 19 и 17, а Кнопочка не живёт в доме 19?

Ответ: Знайка живёт в доме № ____, Кнопочка № ____, Тюбик № ____

Задание 5. Расшифруй слово.

7 - 4	О
-------	---

6 + 2	Н
-------	---

9 - 9	Ф
-------	---

10 - 5	Е
--------	---

6 + 4	Т
-------	---

10 - 9	К
--------	---

9 - 3	А
-------	---

Запиши под цифрами буквы:

1	3	8	0	5	10	6

Задание 6. На блюде лежало 8 кусочков мяса. Три из них разрезали пополам. Сколько кусочков мяса стало на блюде?

Ответ: _____

Задание 7. Сколько прямоугольников изображено на рисунке?



Ответ: _____

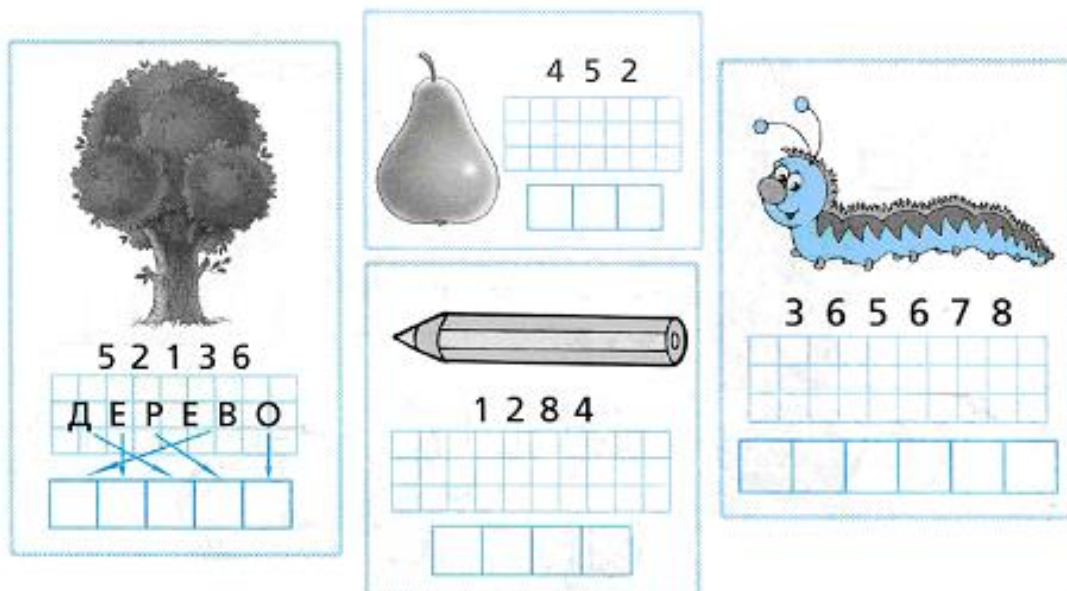
Задание 8. Понаблюдай за изменением чисел и продолжи каждый ряд ещё на два числа.

1, 3, 5, 7 ... _____

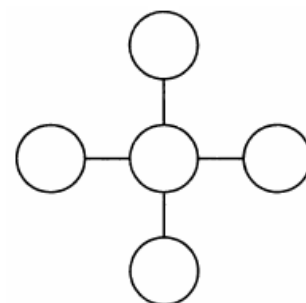
123, 234, 345 ... _____

20, 17, 14, 11 ... _____


Задание 9. Разгадай ребусы.



Задание 10. В каждый из свободных кружочков впиши по одному из чисел от 1 до 5 включительно так, чтобы суммы трёх чисел по горизонтали и трёх чисел по вертикали были равны.



Задание 11. Дорисуй по клеточкам вторую половинку.



Ответы 2 класс (всего 62 балла)

Задание № 1 (всего 4 балла)

- 1) 18 кг или столько же (1 балл)
- 2) 0 или ни одной (1 балл)
- 3) 3 (1 балл)
- 4) 3 (1 балл)

Задание № 2 (3 балла за верный ответ)

Кружок должен быть закрашен на четвёртом рисунке

Задание № 3 (3 балла за верный ответ)

Ответ: 13

Задание № 4 (6 баллов за верный ответ (по 2 за каждый дом))

Ответ: Знайка живет в доме № 14, Кнопочка № 17, Тюбик № 19

Задание № 5 (7 баллов по 1 за каждую букву + 3 за все слово)

1	3	8	0	5	10	6
К	О	Н	Ф	Е	Т	А

Задание № 6 (4 балла за верный ответ)

Ответ: 11 кусочков

Задание № 7 **Ответ:** 6 прямоугольников

5 баллов за верный ответ

2 балла за ответ 4 прямоугольника

Задание № 8 (6 баллов)

- 1, 3, 5, 7 ... 9, 11
123, 234, 345 ... 456
20, 17, 14, 11 ... 8

Задание № 9 (8 баллов по 2 за каждое слово)

Ответ: ведро, шар, каша, синица

Задание № 10 (6 баллов)

Ответ:

Решение.

По горизонтали: $5 + 1 + 2 = 8$.

По вертикали: $4 + 1 + 3 = 8$.

Задача имеет еще два решения

Задание № 11 (всего 10 баллов - по 5 баллов за каждый рисунок)

5 баллов – рисунок выполнен правильно и аккуратно

4 балла – один-два недочёта

3 балла – недочётов более двух

1-2 балла сделаны попытки, но рисунок не дорисован ИЛИ дорисован некорректно