

ФАМИЛИЯ _____

ИМЯ _____

ШКОЛА _____

КЛАСС _____

Марафон знаний 2018

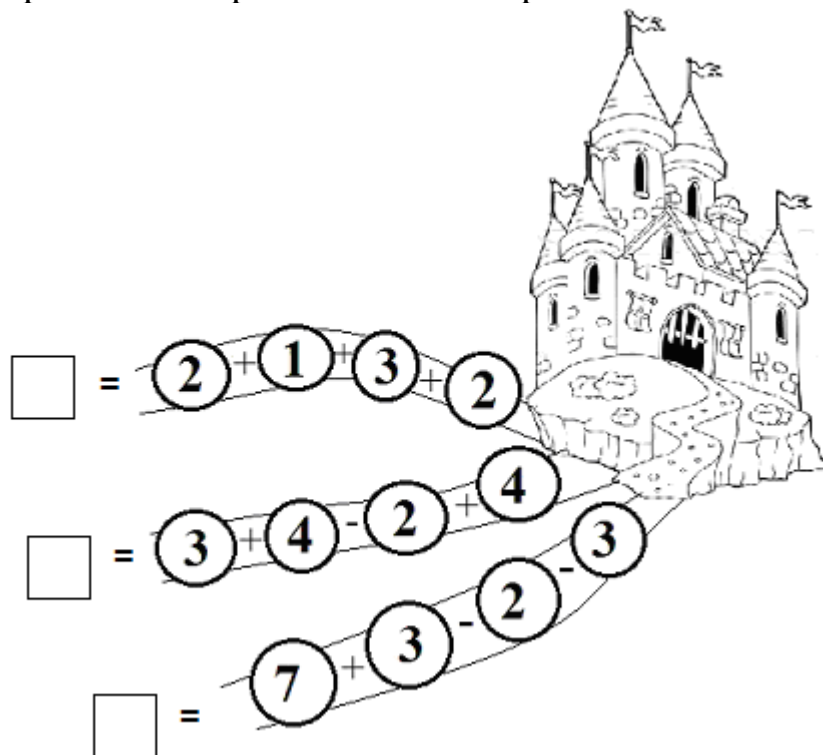
Математика 2 класс



Задание 1. Разминка

1. У бабушки Даши есть внук Паша, кот Пушок, собака Дружок. Сколько у бабушки внуков? ____
2. В парке 10 скамеек. Три покрасили. Сколько скамеек стало в парке? ____
3. Боря гостил в деревне неделю и 2 дня. Сколько дней гостил Боря в деревне? ____
4. По небу летели: воробей, ворона, стрекоза, ласточка и шмель. Сколько птиц летело? ____

Задание 2. Сосчитай и найди самый короткий путь к замку. Поставь галочку рядом с выбранной тобою дорожкой.



Задание 3. Ребята делают гирлянду к Новому году. Сначала берут красное колечко, затем жёлтое, синее и зелёное. И так по порядку. Какого цвета будет десятое колечко?

Ответ: _____

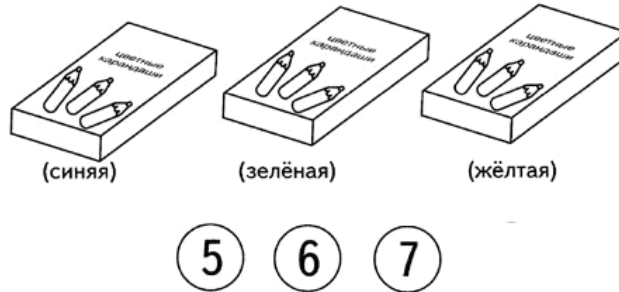
Задание 4. На математическом шарфике числа записаны по определённом правилу. Определи это правило и впиши пропущенные числа.



Задание 5. Разгадай секрет чисел. Кошка – 3 Лошадь – 5 Петух – 8 Ослик – 2 Кукушка – 4 Собака – ? **Ответ:** Собака – ____

Задание 6. Кот Матроскин и Шарик строили для коровы Мурки сарай. Сколько распилов нужно им сделать, чтобы из доски длиной 12 метров приготовить куски по 3 метра в каждом? **Ответ:** _____

Задание 7. В коробке лежало пять, шесть и семь карандашей. В синей коробке карандашей больше, чем в зелёной, а в зелёной больше, чем в жёлтой. Сколько карандашей в каждой коробке? Соедини числа с карандашами стрелочками.

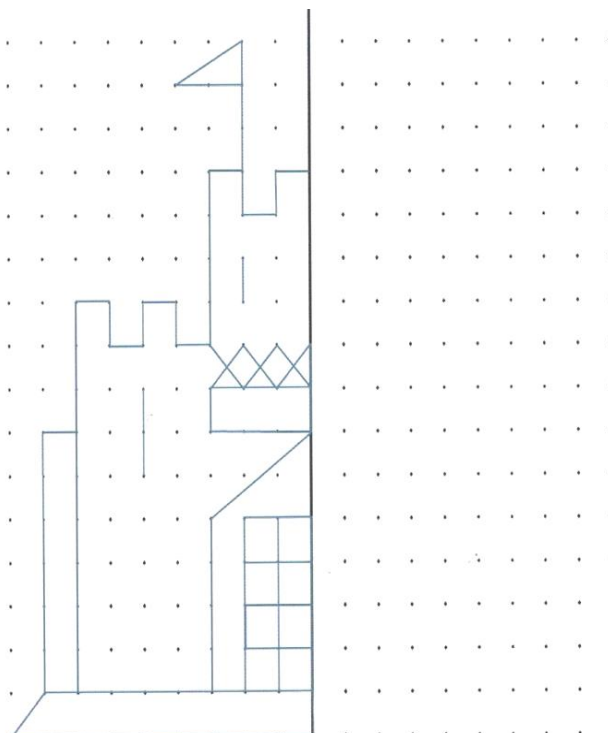


Задание 8. У бяки и буки было поровну поганок. Когда Бяка съела 2 поганки, то вместе у них стало 10 штук. По сколько поганок было у Бяки и Буки? **Ответ:** _____

Задание 9. Разгадай математические ребусы.

		$M=H$
_____	_____	_____

Задание 10. Дорисуй замок по точкам.



Ответы 2 класс (всего 45 балла)

Задание № 1 (всего 4 балла)

- 1) один (1 балл)
- 2) десять (1 балл)
- 3) 9 (1 балл)
- 4) 3 (1 балл)

Задание № 2 (5 баллов за верный ответ)

Числа около дорожек: 8; 9; 5 (по 1 баллу)

Галочка должна быть рядом с самой низкой дорожкой (+ 2 балла)

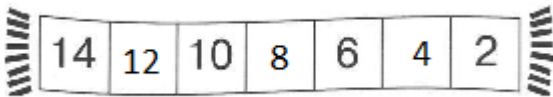
Задание № 3 (4 балла)

Ответ: жёлтое

Задание № 4

4 балла за верный ответ

1 балл если вместо четвёрки вставлена другая цифра

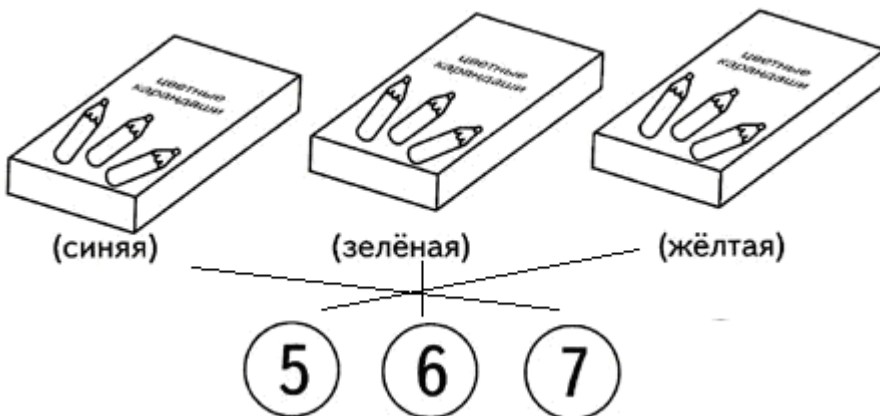


Задание 5. Кошка – мяу Лошадь – и-го-го Петух – ку-ка-ре-ку Ослик – иа
Кукушка – ку-ку Лягушка – ква **Ответ:** Собака – 3 (гав) (4 балла)

Задание № 6 (4 балла за верный ответ)

Ответ: три распила

Задание № 7 (4 балла)



Задание № 8 (5 баллов)

Ответ: 6

Задание № 9 (6 баллов - по два за каждый)

Ответ: 1) овал 2) число 3) осень

Задание № 10

5 баллов – рисунок выполнен правильно и аккуратно

4 балла – один-два недочёта

3 балла – замок изображён полностью, но недочётов более двух

1-2 балла сделаны попытки, но замок не дорисован ИЛИ дорисован некорректно