

Марафон знаний 2016


Математика 2 класс



Задание 1. Подчеркни в каждом ряду по три числа так, чтобы в сумме получилось выделенное число.

- 1) 1 10 11 12 3 4 5 8 **17**
- 2) 5 13 10 2 21 18 6 4 **40**
- 3) 12 13 6 14 10 11 3 5 **29**

Задание 2. Модница сороконожка
Стала примерять сапожки
Черных восемь пар надела
И четыре пары белых
Сколько остается ножек
Для коричневых сапожек?



Ответ: _____

Задание 3. Вставь в математические слова пропущенные буквы.

пл__с

т__ч__а

отр__з__к

у__ол

кв__др__т

у__а__н__н__е

кр__г

ф__г__ра

р__ш__н__е

ч__сло

т__е__г__льник

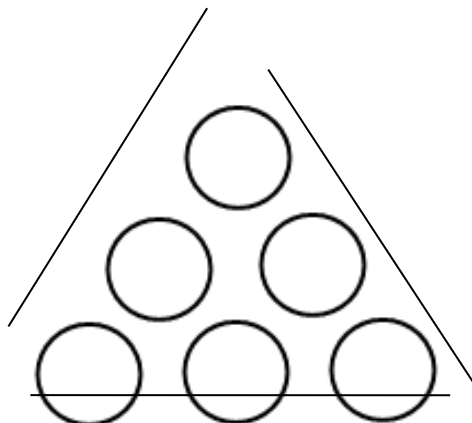
м__о__и__ель

ц__фра

м__н__с

ст__р__на

Задание 4. Расставь числа 1, 2, 3, 4, 5, 6 в кружках так, чтобы сумма чисел вдоль каждой прямой равнялась 12.



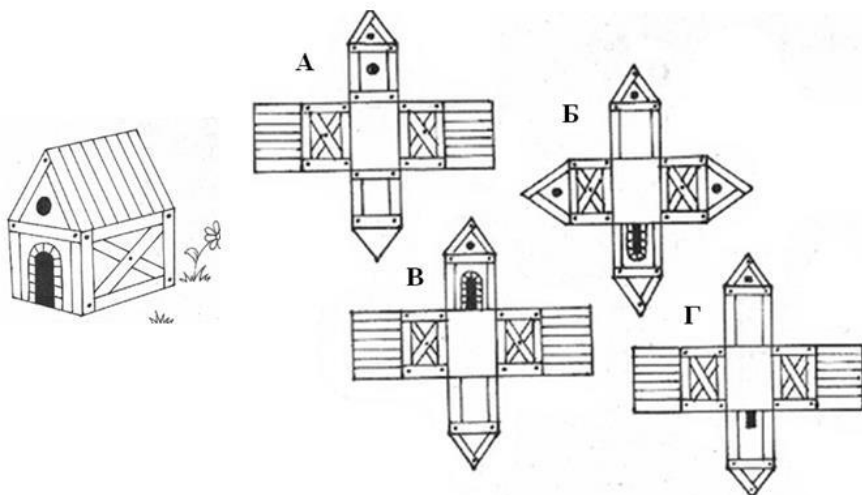
Задание 5. Катится по столу колесо –
разноцветное оно. Один угол у него красный, другой зеленый, а третий –

синий! Какого цвета будет следующий угол, когда оно докатится до края стола?

Ответ: _____

Задание 6.

Степа решил сколотить будку для своего пёсика Дружка. Какая из предложенных схем домика соответствует задуманному Степой? В ответ запиши букву.



Ответ: _____

Задание 7. С Винни-Пухом, Пятачком и кроликом произошла невероятная история. Раньше Винни-Пух любил мед, Кролик капусту, а Пятачок – желуди. Но попав в зачарованный лес и проголодавшись, они обнаружили, что их вкусы изменились, но по-прежнему каждый предпочитает что-то одно. Кролик заявил: “Я не ем капусту и желуди”. Пятачок промолчал, а Винни-Пух заметил: “А я не люблю капусту”. Кто что стал любить есть?

Ответ: Винни-Пух _____ Кролик _____ Пятачок _____

Задание 8. Реши математические ребусы:



Ответ: _____

Ответ: _____

Задание 9. Ваня перепутал наименование единиц измерения. Помоги ему исправить ошибки.

- 1) Высота слона 3 см. _____
- 2) Длина тетради равна 2 м. _____
- 3) Длина муравья 6 см. _____

Ответы 2 класс (всего 66 баллов)

Задание 1. 9 баллов (по 3 б. за каждый пункт)

1) 1 10 11 12 3 4 5 8 **17**

2) 5 13 10 2 21 18 6 4 **40**

3) 12 13 6 14 10 11 3 5 **29**

или

12 13 6 14 10 11 3 5 **29**

! Возможно, дети найдут еще какие-то варианты. Можно добавить баллы, если приведены несколько вариантов.

Задание 2. 4 балла за верный ответ

Ответ: 16 ножек

Задание 3. 15 баллов (1б. за каждое слово)

плюс

точка

отрезок

угол

квадрат

уравнение

круг

фигура

решение

число

треугольник

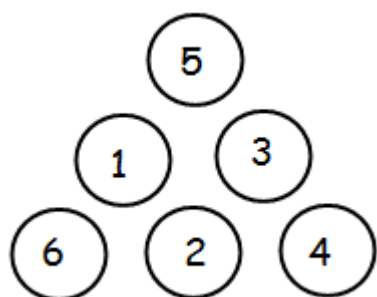
множитель

цифра

минус

сторона

Задание 4. 8 баллов за правильное решение



! Числа 4, 5, 6 в угловых кружочках.

Задание 5. 5 баллов

Ответ: никакого, у колеса нет углов

Задание 6. 5 баллов

Ответ: В

Задание 7. 6 баллов (по 2 б. за каждого)

Ответ: Винни-Пух - желуди Кролик - мед Пятачок - капуста

Задание 8. 8 баллов (4 + 4)

Ответ: задача Ответ: число

Задание 9. 6 баллов (по 2 б. за каждый пункт)

1) Высота слона 3 **см.** ___ м ___

2) Длина тетради равна 2 **м.** ___ дм ___

3) Длина муравья 6 **см.** ___ мм ___

! Если зачеркивает вместе с числом и правильно пишет ответ, засчитываем.