

# Марафон знаний 2020

## Математика 2 класс



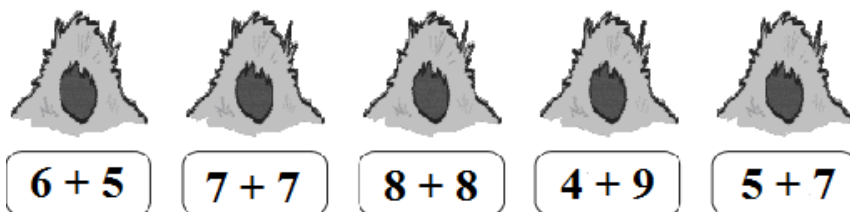
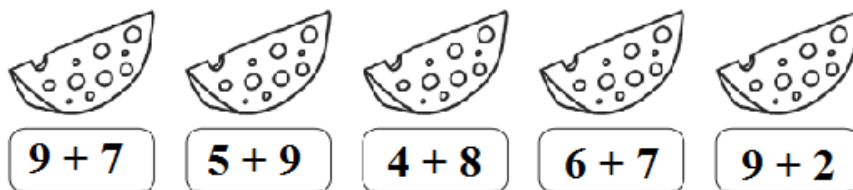
### Задание 1. Разминка

1. Сколько ушей у трёх мышей? **Ответ:** \_\_\_\_\_
2. Серёжа покрасил стороны кубика разными красками. Сколько красок для этого потребовалось? **Ответ:** \_\_\_\_\_
3. У кого пяточок есть, а на него ничего не купишь? **Ответ:** \_\_\_\_\_

### Задание 2. Отгадай загадки с числами.

1. На ночь два оконца сами закрываются, а с восходом солнца сами открываются. **Ответ:** \_\_\_\_\_
2. Для пяти мальчиков пятеро чуланчиков, а выход один. **Ответ:** \_\_\_\_\_

**Задание 3.** Хочешь узнать, какой кусочек сыра и какая норка принадлежит каждой мышке? Соедини стрелками мышек с подходящими числовыми выражениями (можно использовать карандаши разных цветов).



**Задание 4.** За квадратный стол могут сесть одновременно 4 гнома, по одному с каждой стороны. Для вечеринки 7 таких столиков составили в ряд (вплотную один к другому). Сколько гномов могут сесть за получившийся длинный стол?

**Ответ:** \_\_\_\_\_

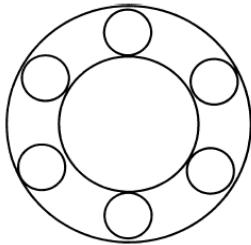
**Задание 5.** Помоги старушке сосчитать ватрушки.



Решила старушка ватрушки испечь,  
А сколько их надо, совсем позабыла.  
Две штучки для внучки,  
Две штучки для деда,  
Две штучки для Тани, дочурки соседа...  
Одну для себя, одну для подружки...  
Считала, считала, да сбилась,  
А печь-то совсем протопилась!

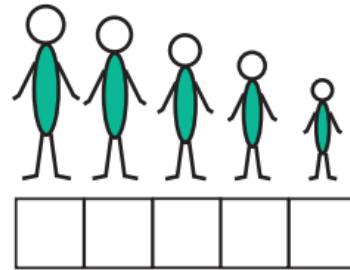
**Ответ:** \_\_\_\_\_

**Задание 6.** Сколько на рисунке кругов?



**Ответ:** \_\_\_\_\_

**Задание 7.** Ваня выше Пети и Гриши, но ниже Олега и Юры. Петя не самый низкий. Юра выше троих. Подпиши имена.



(впиши первую букву имени!)

**Задание 8.** Каждая цифра надела свою маску.

$$\bigcirc + 2 = 9$$

$$\square + 1 + \square = 7$$


$$\hexagon + \hexagon - 1 = 9$$

$$\bigcirc ? \square$$

$$\square ? \square$$

$$\hexagon ? \square$$

**Задание 9.** Закрась туловище тех монстриков, у которых рук меньше, чем ног, а голов меньше, чем рук и ног, вместе взятых.



**Ответы 2 класс (всего 46 баллов)**

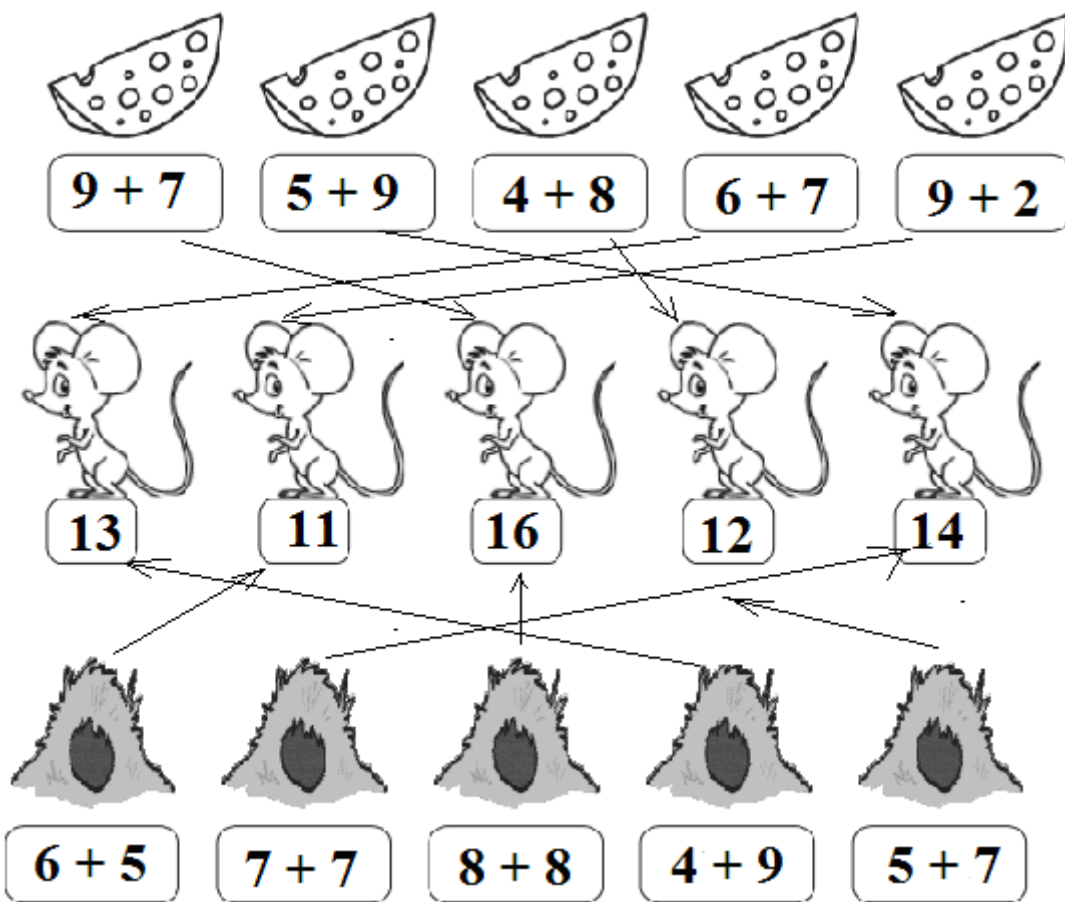
**Задание 1.** (3 балла – по 1 б за каждый верный ответ)

- 6
3. 6
- у поросёнка

**Задание 2.** *Отгадай загадки с числами* (4 балла – по 2 б за каждый верный ответ)

- глаза ИЛИ веки
- перчатка

**Задание 3.** (10 балла – по 2 б за каждую стрелку)



**Задание 4.** (4 балла за верный ответ) **16 Гномов**

**Задание 5.** (2 балла за верный ответ)

**Ответ:** 8 ватрушек

**Задание 6.** (4 балла за верный ответ)

**Ответ:** 8 кругов  
1 балл за ответ 7 кругов

**Задание 7.** (5 балла за верный ответ)  
по 1 баллу за каждую клеточку

<b>О</b>	<b>Ю</b>	<b>В</b>	<b>П</b>	<b>Г</b>
----------	----------	----------	----------	----------

Задание 8. (5 баллов)

$$\bigcirc + 2 = 9$$

$$\bigcirc ? \boxed{7} \quad 1 \text{ балл}$$

$$\square + 1 + \square = 7$$

$$\square ? \boxed{3} \quad 2 \text{ балла}$$

$$\hexagon + \hexagon - 1 = 9$$

$$\hexagon ? \boxed{5} \quad 2 \text{ балла}$$

Задание 9. (9 баллов – по 3 за каждого монстрика)

