

ФАМИЛИЯ _____

ИМЯ _____

ШКОЛА _____

КЛАСС _____

Марафон знаний 2025

Математика 2 класс



Задание 1. Нескучные задачи

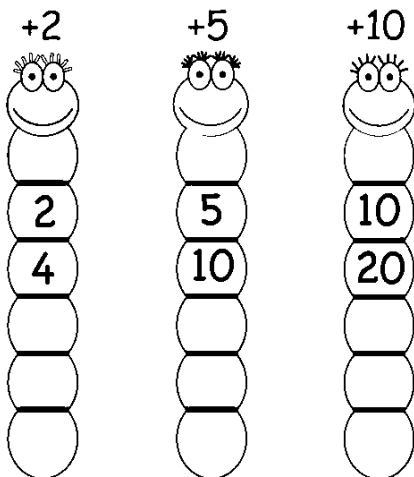
1. На ветке сидело несколько птичек. У них всего шесть крыльев. Сколько у них хвостиков? _____

2. Один кирпич весит 1 кг и еще полкирпича. Сколько весит один кирпич? _____

3. Сколько и каких различных цифр надо использовать, чтобы написать число 100? _____

Задание 2.

Допиши недостающие цифры.



Задание 4. Логическая задача


Девочки занимаются танцами, музыкой и рисованием. Оля не рисует, Света не танцует, а Юля любит тишину. Кто чем занимается?

Ответ: Оля – _____;



Света – _____;

Юля – _____.

Задание 3. Помоги каждому из цыплят найти свою маму: раскрась дорожки, на которых цифры написаны в правильной последовательности – либо в прямой, либо в обратной.




Задание 5. Федя клеит на ленту наклейки четырех видов (всегда в одном и том же порядке). Какую наклейку он разместит в десятой клеточке? В ответ запиши букву.

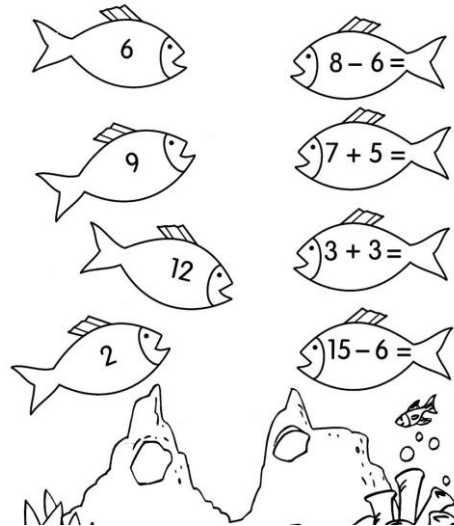


Ответ: _____


Задание 6. Впиши пропущенные числа так, чтобы число в нижнем квадрате было равно сумме чисел в двух верхних квадратах.



Задание 7. Реши примеры и соедини линиями рыбок.

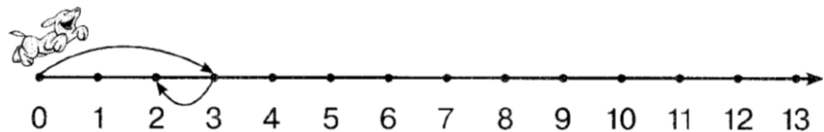


Задание 8. Вставь пропущенные числа.




Задание 9. Боре купили игрушечную собачку. Если её завести, она прыгает на 3 метра вперёд, а затем на 1 метр назад. Сколько раз собачке нужно прыгнуть, чтобы продвинуться на 9 м вперёд? Покажи на рисунке стрелками движение игрушки.


Ответ: _____ раз



Задание 10. Сколько нужно воздушных шаров, чтобы поднять в воздух слонёнка?







Задание 11. Соедини линией машину с её прицепом.



Ответ: _____

Ответы Математика 2 класс (всего 66 баллов)

№	Ответ	Баллы
1	1. 3 хвостика (1 балл) 2. 2 кг (1 балл) 3. две – один и ноль (2 балла, если не названы цифры 1 балл)	4 б.
2	<div style="display: flex; justify-content: space-around; align-items: flex-start;"> <div style="text-align: center;"> <p>+2</p>  </div> <div style="text-align: center;"> <p>+5</p>  </div> <div style="text-align: center;"> <p>+10</p>  </div> </div>	9 б.
3		<p align="center">3 б.</p> <p align="center">по 1 б. за верно закрашенную дорожку</p>
4	Оля – танцами Света – музыкой Юля – рисованием	3 б.
5	Ответ: Д	<p align="center">3 б.</p> <p align="center">1 б. если ответ А</p>

<p>6</p>		<p>9 б.</p>
<p>7</p>		<p>4 б. по 1 б. за каждую пару рыб</p>
<p>8</p>		<p>20 б.</p>
<p>9</p>	<p>Ответ: 7 раз</p>	<p>4 б. 2 б. за верный ответ + 2 балла за рисунок</p>
<p>10</p>	<p>6</p>	<p>3 б.</p>
<p>11</p>		<p>4 б. по 1 б. за каждую пару машин</p>