

Фамилия _____ Имя _____

Школа _____ Класс _____

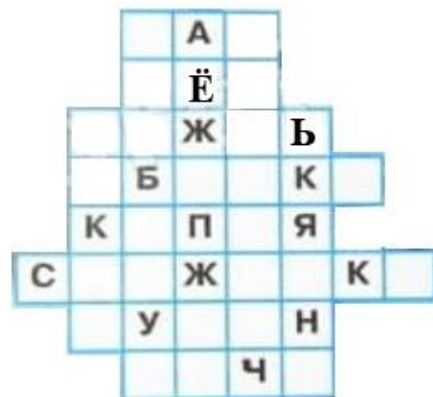
Марафон знаний 2023

Окружающий мир 3 класс



Задание 1.

Впиши в кроссворд слова, обозначающие различные состояния воды.



Задание 2. Отгадай загадки.

- 1) Высоко стоит, далеко глядит, станет старушкой, будет избушкой. _____
- 2) Что за дерево такое угощает снегирей? Снег лежит, трещат морозы, ну а ягоды вкусней. _____
- 3) Облетел конёк целый мир в денёк. _____
- 4) Летом — кудри, а зимой — в пудре. _____
- 5) Вечером прилетит, всю ночь пролежит, а утром опять улетит. _____

Задание 3. Заполни схему. Запиши названия групп растений и по 3 примера растений каждой группы.



Название группы:

_____	_____	_____
<input type="text"/>	<input type="text"/>	<input type="text"/>

Задание 4. Узнай по описанию небесные тела и запиши их названия.

- 1) Раскалённые небесные тела, излучающие свет. _____
- 2) Холодные небесные тела. Обращаются вокруг солнца. Не излучают собственного света. _____
- 3) Холодные небесные тела. Обращаются вокруг планет. _____

Задание 5. Соедини водоёмы с их названиями.


Байкал	Чёрное	Волхов	Ильмень
море	озеро	океан	река
Балтийское	Тихий	Волга	Атлантический

Задание 6. Узнай растение по описанию.

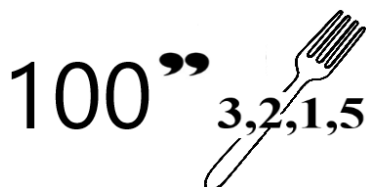
1) Высокое дерево с густой и пышной кроной. Получило своё название из-за клейкого сока, который выделяется из ранок на молодых побегах. Цветёт в июне. Медовый аромат цветущего дерева привлекает пчёл. _____

2) Это хвойный кустарник. Его плоские, сизо – зелёные хвоинки сидят на веточках по три вместе. Осенью среди хвои появляются мясистые синеватые горошины – шишкоягоды. Внутри них созревают семена. Дрозды и другие птицы кормятся шишкоягодами и разносят семена кустарника по другим лесам. _____


Задание 7. Разгадай ребусы.



1) _____



2) _____



3) _____

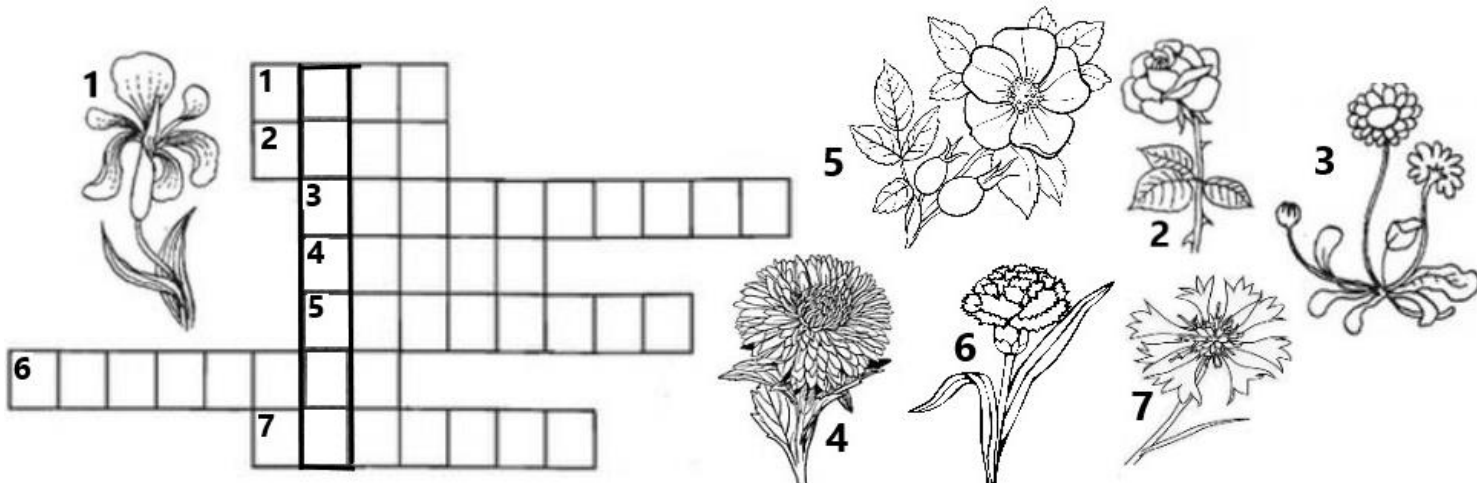


4) _____


Задание 8. Установи соответствие. Соедини линией вопрос и ответ - название материка.

- | | |
|--|------------------|
| 1. Какой материк самый маленький по площади? | Евразия |
| 2. На каком материке нет городов? | Африка |
| 3. На каком материке расположена Россия? | Северная Америка |
| 4. На каком материке протекает река Нил? | Австралия |
| 5. Какие материки составляют один континент? | Антарктида |
| | Южная Америка |

Задание 9. Впиши названия 7 цветов в клетки кроссворда. Если ты правильно разгадаешь кроссворд, по вертикали получится название ещё одного цветка.



Ответы Окружающий мир 3 класс

№	Ответ	балл															
1		<p align="center">8 б.</p> <p align="center">По 1 баллу за слово</p>															
2	<p>1) Сосна (за ответ дерево 1 балл) 2) Рябина 3) Ветер 4) Берёза 5) Роса</p>	<p align="center">10 б.</p> <p align="center">По 2 балла за отгадку</p>															
3	<table border="0"> <tr> <td>кустарники</td> <td>деревья</td> <td>травы</td> </tr> <tr> <td>калина</td> <td>дуб</td> <td>одуванчик</td> </tr> <tr> <td>смородина</td> <td>клён</td> <td>крапива</td> </tr> <tr> <td>малина</td> <td>ель</td> <td>подорожник</td> </tr> <tr> <td>жимолость</td> <td>тополь</td> <td>тюльпан</td> </tr> </table>	кустарники	деревья	травы	калина	дуб	одуванчик	смородина	клён	крапива	малина	ель	подорожник	жимолость	тополь	тюльпан	<p align="center">12 б.</p> <p align="center">По 1 баллу за название группы + по 1 б. за пример</p>
кустарники	деревья	травы															
калина	дуб	одуванчик															
смородина	клён	крапива															
малина	ель	подорожник															
жимолость	тополь	тюльпан															
4	<p>1) Звёзды 2) Планеты 3) Спутники</p>	<p align="center">6 б.</p> <p align="center">По 2 балла за слово</p>															
5	<table border="0"> <tr> <td>Байкал</td> <td>Чёрное</td> <td>Волхов</td> <td>Ильмень</td> </tr> <tr> <td>море</td> <td>озеро</td> <td>океан</td> <td>река</td> </tr> <tr> <td>Балтийское</td> <td>Тихий</td> <td>Волга</td> <td>Атлантический</td> </tr> </table>	Байкал	Чёрное	Волхов	Ильмень	море	озеро	океан	река	Балтийское	Тихий	Волга	Атлантический	<p align="center">8 б</p> <p align="center">По 1 б. за верное соединение</p>			
Байкал	Чёрное	Волхов	Ильмень														
море	озеро	океан	река														
Балтийское	Тихий	Волга	Атлантический														
6	<p>1) Липа 2) Можжевельник</p>	<p align="center">4 б. По 2 балла за название</p>															
7	<p>1) Выхухоль 2) Слива 3) Ястреб 4) Цапля</p>	<p align="center">8 баллов</p> <p align="center">По 2 балла за ребус</p>															
8	<table border="0"> <tr> <td>1. Какой материк самый маленький по площади?</td> <td>Евразия</td> </tr> <tr> <td>2. На каком материке нет городов?</td> <td>Африка</td> </tr> <tr> <td>3. На каком материке расположена Россия?</td> <td>Северная Америка</td> </tr> <tr> <td>4. На каком материке протекает река Нил?</td> <td>Австралия</td> </tr> <tr> <td>5. Какие материки составляют один континент?</td> <td>Антарктида</td> </tr> <tr> <td></td> <td>Южная Америка</td> </tr> </table>	1. Какой материк самый маленький по площади?	Евразия	2. На каком материке нет городов?	Африка	3. На каком материке расположена Россия?	Северная Америка	4. На каком материке протекает река Нил?	Австралия	5. Какие материки составляют один континент?	Антарктида		Южная Америка	<p align="center">6 б за задание по 1 б. за соединение</p>			
1. Какой материк самый маленький по площади?	Евразия																
2. На каком материке нет городов?	Африка																
3. На каком материке расположена Россия?	Северная Америка																
4. На каком материке протекает река Нил?	Австралия																
5. Какие материки составляют один континент?	Антарктида																
	Южная Америка																

